

**03.02.24 МДК 01.01 для Л-32 группы**  
**Выполнить (в тетради для практических работ) пятую**  
**практическую работу (Часть 2) – фото выполненной работы**  
**прислать на проверку на почту - [tursheva67@mail.ru](mailto:tursheva67@mail.ru)**

1. Заполните таблицу 1 по строке своего варианта

Ва- ри- ант	Метод рубки ухода	Виды рубок ухода, при которых применя- ется метод	Применяет-ся в насаж- дениях (происхож- дение, состав, возрастная структура и др.)	Характеристики деревьев		
				лучших, (оставляемых на выращивание)	вспомо- гатель- ных	нежелательных, (подлежащих вырубке)
<i>1</i>	<i>2</i>	<i>3</i>	<i>4</i>	<i>5</i>	<i>6</i>	<i>7</i>
1						
2	низовой					
3	верховой					
4	комбинированный					
5	коридорный					
6	равномерное изреживание молодняков					
7	линейный					
8	чересполосный					
9	уход за плодоношением кедра					
10	групповой (куртинный)					
11	осветлительное изреживание молодняков					
12	линейно- селекционный					
13	освобождения					
14	низовой					
15	верховой					

2. Откройте таблицу из практической работы за 31.01.24 ( квартал 10и 22). Перенесите из нее исходные данные в графы 1 – 4 таблицы 2, приведенной ниже. Подберите методы рубок ухода к каждому насаждению и заполните таблицу до конца.

Таблица 2

Квартал	Выдел	Таксационное описание древостоя (происхождение, состав, средние возрасты всех пород, особенности выдела)	Можно назначить рубку ухода (вид)	Метод рубки ухода
<i>1</i>	<i>2</i>	<i>3</i>	<i>4</i>	<i>5</i>

3. На рисунке 1.1 изображен профиль насаждения 10Б(35) в котором назначено прореживание.

**Выберите метод рубки ухода.**

Укажите номера деревьев:

- а) лучших (избыточных лучших),
- б) вспомогательных (дополняющих),
- в) нежелательных.




рисунок 1.1

4. На рисунке 1.2 на следующей странице изображен профиль насаждения 3Е(70)2Е(35)4Ос(70)1Ос(35) в котором назначена проходная рубка.

**Выберите и укажите метод рубки ухода.**

Укажите номера деревьев:

- а) лучших
- б) вспомогательных (дополняющих),
- в) нежелательных.

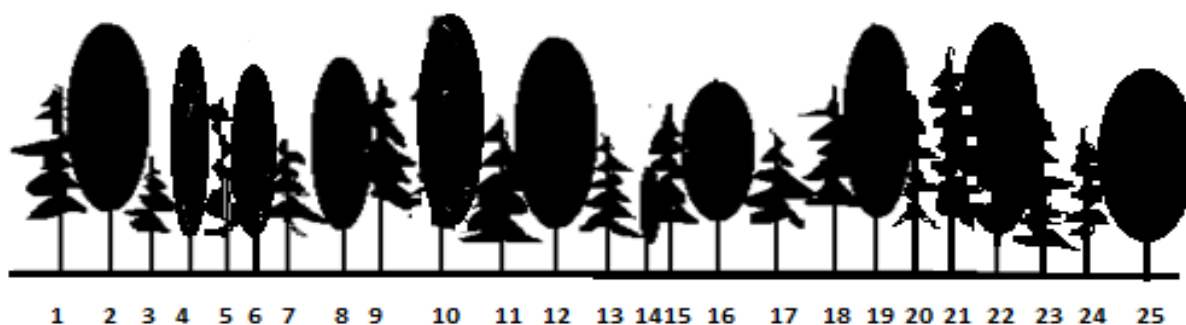


Рисунок 1.2

5. На рисунке 1.3 изображен вид сверху на лесные культуры 10С(43), в которых назначено прореживание с интенсивностью

- а) 25%;
- б) 30%

**Выберите и укажите метод рубки ухода.**

Укажите литеры рядов, которые будут вырублены целиком, а для рядов в которых рубка деревьев будет производиться выборочно, укажите номера деревьев

- а) лучших,
- б) вспомогательных (дополняющих),
- в) нежелательных.

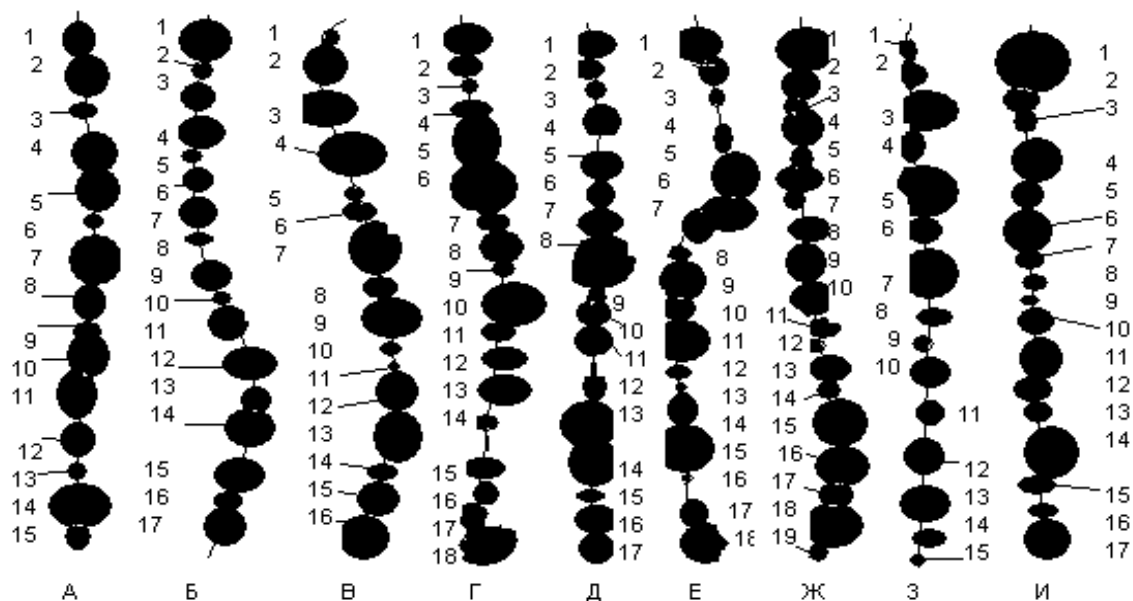


Рисунок 1.3

6. На рисунке 1.4 на следующей странице изображен вид сверху на лесные культуры 10С(15), естественное возобновление в культурах е 10Б(15), в которых назначена прочистка.

**Выберите метод рубки ухода.**

- а) при котором рубка будет проведена с применением ручных орудий
- б) при котором для проведения рубки будет применен трактор с катком-осветлителем культур

Укажите номера деревьев назначенных в рубку:

- а) лучших,
- б) вспомогательных (дополняющих),
- в) нежелательных.

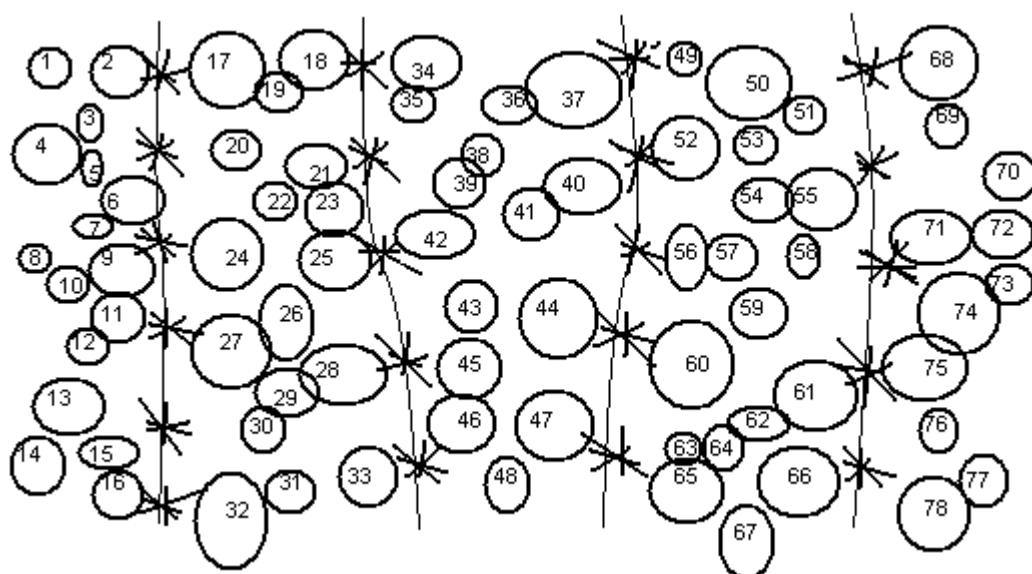


Рисунок 1.4